

Priroda 6 def 7. zadaća

Ne morate poslati ovu zadaću. Ali mogu zatražiti u bilo kojem trenutku da ju pošaljete - stoga ju imajte pripremljenu za slanje 😊

Neka vas ne buni nešto drugačiji raspored gradiva u udžbeniku



Podjela kopnenih voda (udžbenik str 108.-109.) i **Živa bića kopnenih voda 1. dio** (udžbenik str 113.-114.)

Dragi učenici,

1. najprije pogledajte video lekciju na slijedećoj poveznici:

<https://www.youtube.com/watch?v=aDUhP3ZGa5g&feature=youtu.be>

2. Prepiši plan ploče/priloži u svoju mapu Prirode
3. Riješi radni listić

PLAN PLOČE:

PODJELA KOPNENIH VODA

Kopnene vode dijele se na stajaćice i tekućice.

U vode stajaćice ubrajamo: lokve, bare, jezera i močvare

U vode tekućice ubrajamo: potoke, rijeke i podzemne vode

ŽIVA BIĆA KOPNENIH VODA 1. DIO

BILJKE:

Uvjeti za život povoljniji su u vodama stajaćicama nego u vodama tekućicama (toplije, sporije...)

trska (cvat metličast) i **rogoz** (smeđi cvat poput klipa) – uski, oštri i čvrsti listovi,

-dugačka i šuplja stabljika

podanak- podzemni dio za

preživljavanje nepovoljnih uvjeta

-oprašivanje i rasprostranjivanje - vjetrom



Barska perunika – podanak, boja cvijeta žuta –oprašivanje kukcima



vodena strelica – korijen (učvršćuje biljku u mulju)

razvija tri vrste listova

(1. podvodni poput trave, 2. plutajući obli, 3. strjelasti zračni)



vodeni žabnjak – dva oblika listova (1. rasperjani pod vodom, 2. krpasti na površini)



lopoč (bijeli, veći cvijet) i **lokvanj** (žuti, manji cvijet)

listovi široki, plutajući i sjajni (puči na licu lista), peteljke šuplje, podanak


vodena kuga i **krocanj** – sitni i rasperjani listovi



vodena leća – najmanja biljka cvjetnjača, rasprostranjuju je ptice na nogama



Alge kopnenih voda – **fitoplankton** – mikroskopske alge



spirogira (nazivaju je žabokrečina – spiralni kloroplast)



ŽIVA BIĆA UZ KOPNENE VODE

1. Pomoću slika u udžbeniku na str. 90. odredi biljke koje rastu uz kopnene vode.





2. Koju vrstu podzemne stabljike imaju sve biljke na slici u 1. zadatku.

Zaokruži slovo ispred jednog točnog odgovora.

- a. gomolj
- b. lukovica
- c. podanak

3. Uz pomoć udžbenika (udžbenik str. 113.) upiši u tablicu tražene podatke.

	NAZIV BILJKE	BOJA CVJETOVA	OBLIK LISTOVA
			
			

4. Biljku prikazanu na slici, koja ima tri vrste listova nazivamo

_____ .

